



EXAME DE ADMISSÃO AO EAGS 2022

ADMINISTRAÇÃO

CADERNO DE QUESTÕES PROVAS: LÍNGUA PORTUGUESA – ADMINISTRAÇÃO

INSTRUÇÕES

- **AGUARDE A ORDEM DO FISCAL PARA ABRIR ESTE CADERNO DE QUESTÕES.**
- Você recebeu um CARTÃO DE RESPOSTAS personalizado e ESTE CADERNO contendo 100 (cem) questões objetivas de múltipla escolha.
- **Tão logo seja determinado pelo fiscal:**
 - ✓ verifique com muita atenção se a numeração das questões e a paginação estão corretas. No caso de falha de impressão, avise **imediatamente** o fiscal. Não serão aceitas reclamações posteriores;
 - ✓ escreva à caneta seu nome completo e número de inscrição no espaço existente no rodapé (parte inferior) desta página. Nos rodapés das páginas ímpares, escreva seu número de inscrição; e
 - ✓ Confira se o CÓDIGO DA PROVA que você recebeu corresponde ao que está impresso no CARTÃO DE RESPOSTAS.
- **As provas escritas terão duração de 4 horas e 20 minutos**, incluído o tempo para preenchimento do Cartão de Respostas.
- Por razões de segurança e sigilo, o candidato deverá permanecer obrigatoriamente no local de realização das provas por, no mínimo, **2 (duas) horas**. Somente poderá levar consigo este Caderno de Questões se permanecer no recinto por, no mínimo, **4 (quatro) horas e 20 (vinte) minutos** depois de iniciada a prova (letra “d” do subitem 5.2.5.1 das Instruções Específicas).
- Tenha muito cuidado para não dobrar, amassar, manchar ou rasurar o seu Cartão de Respostas. Não haverá substituição do mesmo por erro do candidato. Não se esqueça de assiná-lo. Leia atentamente as instruções de preenchimento contidas no próprio Cartão.
- Quando terminar, entregue ao fiscal O CARTÃO DE RESPOSTAS (E O CADERNO DE QUESTÕES, DE ACORDO COM O HORÁRIO) e ASSINE A RELAÇÃO DE PRESENÇA.
- **O CANDIDATO QUE PORTAR MATERIAL NÃO AUTORIZADO SERÁ IMEDIATAMENTE EXCLUÍDO (ELIMINADO) DO EXAME.**

IDENTIFICAÇÃO DO CANDIDATO

NOME COMPLETO: _____ Nº INSCRIÇÃO: _____

ESCOLA DE ESPECIALISTAS DE AERONÁUTICA

EAGS 2022 - GABARITO OFICIAL
CÓDIGO 19 - SAD

Português	
01	A
02	D
03	B
04	D
05	A
06	C
07	D
08	B
09	D
10	A
11	A
12	B
13	D
14	B
15	A
16	C
17	A
18	D
19	C
20	D

Português	
21	B
22	C
23	B
24	C
25	C
26	B
27	C
28	D
29	A
30	B
31	A
32	D
33	A
34	C
35	D
36	A
37	A
38	A
39	Anulada
40	C

Administração	
41	B
42	B
43	A
44	B
45	C
46	D
47	C
48	C
49	A
50	C
51	A
52	A
53	C
54	C
55	C
56	B
57	A
58	C
59	B
60	C

Administração	
61	B
62	D
63	B
64	B
65	D
66	C
67	C
68	B
69	C
70	D
71	A
72	Anulada
73	C
74	D
75	B
76	C
77	C
78	C
79	A
80	D

Administração	
81	D
82	D
83	B
84	B
85	B
86	D
87	D
88	D
89	B
90	C
91	A
92	B
93	C
94	B
95	B
96	D
97	A
98	D
99	A
100	B

AS QUESTÕES DE 01 A 40 REFEREM-SE À LÍNGUA PORTUGUESA

O pulo do gato

Mauro Santayana

1 O grande perigo do jornalista que começa é o de cair na presunção sociológica. É claro que, tratando da sociedade, o jornalismo é também um pouco de sociologia — mas a sociologia deve ir para o lugar próprio, os artigos elaborados com mais tempo, os editoriais e tópicos e, bem digerida em um texto fluido, a reportagem.

Jornalismo é razão e emoção. O texto apenas racional é frio, e só comunica aos que se encontram diretamente interessados no assunto. O texto deve saber dosar emoção e razão, e é nesse equilíbrio que está o chamado “pulo do gato”. Muitos jornalistas acreditam que o adjetivo emociona. Enganam-se. Quanto mais despida uma frase, mais cortante o seu efeito.

“E amolou o machado, preparou um toco para servir de cepo, chamou o menino, amarrou-lhe as mãos, fez-lhe um sinal para que ficasse calado, e rachou o seu corpo em sete pedaços. O menino P., de cinco anos, não era seu filho e F. descobrira isso poucos minutos antes, quando discutia com a mulher.” *Leads* como esse são sempre possíveis na reportagem de polícia: não necessitam de adjetivos. As tragédias, como os cantores famosos, dispensam apresentações.

FIORIN, José Luiz. SAVIOLI, Francisco Platão. Para entender vo texto: Leitura e Redação. São Paulo: Editora Ática, 1999.

As questões de 01 a 04 referem-se ao texto acima.

01 – A expressão “pulo do gato” no título faz referência a quê?

- a) Ao uso correto de palavras que só a experiência proporciona.
- b) À diferenciação entre jornalismo e psicologia.
- c) À distinção entre razão e emoção.
- d) Ao uso de adjetivos.

02 – O autor do texto afirma que jornalismo é equilíbrio entre razão e emoção — o que resulta no chamado “pulo do gato”. Essa ideia equivale a dizer que

- a) a redação de uma frase despida e cortante nada tem que ver com estilo e com capacidade de articulação linguística.
- b) o texto jornalístico não pode ser feito sem uso de linguagem literária, que possibilita muitos usos para além da adjetivação.
- c) tudo tem de ser usado no texto com parcimônia: a sociologia, a literariedade e a objetividade, principalmente em se tratando de reportagem.
- d) o uso consciente e racional do recurso linguístico é o que pode estar no texto jornalístico em si; a emoção esperada segue implícita, como jogo entre escritor e leitor.

03 – No terceiro parágrafo, o autor narra um episódio fictício. Pode-se depreender que sua intenção, com isso, é

- a) denunciar crimes bárbaros que acontecem sem que a população saiba.
- b) mostrar que não é necessário usar adjetivos para emocionar.
- c) exemplificar o pulo do gato, numa referência ao título.
- d) mostrar que um texto pode ser racional e frio.

04 – Considerando as manchetes fictícias apresentadas abaixo, sobre a pandemia de 2020, assinale aquela que está de acordo com o que o texto defende.

- a) Desleixadas campanhas não conseguiram conter a pandemia.
- b) A irremediável Covid-19 afetou grande parte da população.
- c) O brilhante caso das pessoas que se recuperaram.
- d) Governo propõe retomada das atividades.

05 – Assinale a alternativa que apresenta desvio de norma padrão, em relação à regência nominal.

- a) Era um homem **ambicioso com a** fama. Não descansava sua mente, que projetava **delírios de** sucesso.
- b) A moça era filha da melhor doceira que já existira na região. E ela seguiu os passos de sua mãe, mas não era **delicada de** mão.
- c) Sim, havia um fato, e ele percorreu ruas, casas, redes sociais... Evidente era mais a **curiosidade em** dizer do que **em** saber.
- d) O filho queria brincar. Pedia que **pedia à** mãe. Coitada! Estava tão **atarefada em** encomendas! Suas mãos sabiam, e o coração doía.

06 – Leia:

Ao contrário do vinho, o conhaque não amadurece na garrafa, apenas nos tonéis de carvalho. Para fazer-se um litro de aguardente que os ingleses chamam brandy, são necessários nove litros de vinho branco. Sua fermentação é feita anualmente em novembro, e a destilação dura os próximos três meses.

Assinale o processo de formação de palavras que **não** encontra exemplo no texto.

- a) Derivação parassintética ou parssintetismo
- b) Composição por aglutinação
- c) Derivação prefixal
- d) Derivação sufixal

07 – *Ocorreu-lhe desde logo que ao americano poderia parecer estranha tal amizade.* (Fernando Sabino)

A oração subordinada substantiva presente na frase acima classifica-se como

- a) objetiva indireta.
- b) objetiva direta.
- c) predicativa.
- d) subjetiva.

08 – Apenas uma das frases abaixo está com a concordância verbal correta. Assinale-a.

- a) Talvez houvessem motivos justos para sua atitude.
- b) Foi encontrado um livro, dois cadernos e um estojo no pátio da escola.
- c) Dois átomos de hidrogênio e um de oxigênio compõe a molécula da água.
- d) Vai restar, até a semana que vem, apenas alguns poucos exemplares deste livro.

09 – Assinale a alternativa em que o termo destacado **não** desempenha a mesma função sintática do que se destaca na seguinte frase de Machado de Assis: *O ponto cresceu, fez sol. Fui por ali dentro, sem arder, porque as almas são **incombustíveis**.*

- a) Carlos saiu estudante e voltou **como doutor**.
 b) **A sensação vibrante da arena**, o vaqueiro já não o era.
 c) O médico deixou a sala de cirurgia, **muito fatigado, muito cabisbaixo**.
 d) “Oh! Como se me alonga, de ano em ano/ a peregrinação **cansada** minha”. (Camões)

10 – Assinale a alternativa em que todos os termos destacados classificam-se como sujeito.

- a) “Por onde passava ficava **um fermento de desassossego, os homens** não reconheciam suas mulheres **que** subitamente se punham a olhar para eles, com pena de que não tivessem desaparecido.” (José Saramago)
 b) “**O episódio da metrópole apavorada pela penumbra** descreve bem **a má reputação** que as sombras carregam.” (Superinteressante, SP: Abril, jun. 2009)
 c) “**As rosas** desabrocharam/ **Com a luz do sol/ E a beleza das mulheres/ Com o creme Rugol**.” (antigo texto publicitário)
 d) “Olha, **Marília**, as flautas dos pastores/ Que bom que soam, como estão cadentes!/ Olha **o Tejo** a sorrir-se!” (Bocage)

11 – Dos termos destacados nas alternativas abaixo, apenas um se classifica como complemento nominal. Assinale-o.

- a) Desejaria ser-**lhe** obediente, mas o coração transgride as regras da razão.
 b) “... Não percas tempo em mentir. / Não **te** aborreças.” (C. D. Andrade)
 c) É quase como se a língua falasse através do homem, como se o usasse para **se** expressar.
 d) “Digam-**lhe** que estou tristíssimo, mas não posso ir esta noite ao seu encontro.” (V. Moraes)

12 – Atentando para a regência dos verbos das orações adjetivas, assinale a alternativa cuja lacuna **não** deve ser preenchida com nenhuma preposição.

- a) Vestiu a camisa ___ cujo bolso havia uma caneta espiã.
 b) Veja esse recibo! Este é o valor ___ que investi no imóvel.
 c) Aquela era a banca de verduras ___ que ele tirava seu sustento.
 d) Pelo tempo ___ que disponho, não vou conseguir fazer muita coisa.

13 – *Um rei fraco faz fraca a forte gente! Essa verdade sempre esteve clara na mente do soberado Plínio, por isso ele fazia tudo em defesa de seu povo.*

O texto acima contém três predicados, cada qual centrado em um verbo. Esses predicados classificam-se, respectivamente, como

- a) verbal, nominal e verbo-nominal.
 b) verbo-nominal, verbal e nominal.
 c) nominal, verbo-nominal e verbal.
 d) verbo-nominal, nominal e verbal.

14 – Leia as sentenças abaixo:

- I- Comprou tudo. Queria tudo.
 II- É a hora. O sino faz estremecer a cidade na hora.
 III- Vivemos tempos difíceis. Nada possibilita certezas nos tempos difíceis.
 IV- O empresário quer ir embora do país. O filho do empresário foi sequestrado.

Assinale a alternativa que traz a correta sequência de pronomes relativos (acompanhados ou não de preposição) a serem empregados na transformação das sentenças em períodos compostos por orações subordinadas adjetivas.

- a) que - na qual - que - onde
 b) quanto - quando - em que - cujo
 c) quanto - onde - nos quais - o qual
 d) que - que - onde - cujo

15 – Assinale a alternativa que completa os espaços da frase abaixo.

Se ele estivesse fazendo alguma coisa errada, não estaria agindo ___ claras, ___ luz da percepção alheia, e sim no sótão do comportamento, vindo sem ser visto, que é assim que agem os dissimulados, sempre insensíveis ___ dor do próximo e jamais face ___ face com a verdade.

- a) às - à - à - a
 b) as - a - à - a
 c) às - a - a - à
 d) as - à - a - à

16 – Assinale a frase em que a locução adjetiva não apresenta adjetivo correspondente.

- a) Uma pessoa sem habilidade não pode executar essa tarefa.
 b) Os sons da tarde eram somente de um ou outro pássaro.
 c) Foi difícil encontrar a peça da impressora que estragou.
 d) Todos passamos por devaneios de paixão.

17 – Observe o diálogo:

— *Não posso fazer o relatório agora porque estou muito ocupado, esclareceu Jorge.*
 — *Então me entregue até amanhã, pediu Alice.*

Assinale a alternativa que contém a correta transposição do diálogo acima para o discurso indireto.

- a) Jorge esclareceu que não podia fazer o relatório naquele momento porque estava muito ocupado. Alice então lhe pediu que entregasse até o dia seguinte.
 b) Jorge disse que não ia fazer o relatório nesse momento porque estava muito ocupado. Alice lhe pediu então que entregue até o dia seguinte.
 c) Jorge esclareceu que não poderia fazer o relatório agora porque estou muito ocupado. Alice então lhe pediu que entregasse até amanhã.
 d) Jorge disse que não irá fazer o relatório hoje. Estou muito ocupado, disse. Alice então lhe solicitou que entregue até o dia seguinte.

18 – Assinale a alternativa que contém a mesma figura de linguagem presente na seguinte frase:

E viram-se chegar, quase sem intermitência, homens carregados de gigos de champanha, caixas de Porto e Bordéus, barricas de cerveja... (Aluísio Azevedo)

- a) “...leva no boletim uma galáxia de zeros.” (Carlos D. de Andrade)
 b) “E o vento brinca nos bigodes do construtor.” (Carlos D. de Andrade)

- c) O Ensino Médio bem ministrado é a porta para alto rendimento universitário.
d) “Um barulho na rua, logo cedo, fê-lo despertar do seu sono. Era o lixo que estava passando.” (Josué Solar)

19 – Leia:

Se eu convencesse Madalena de que ela não tem razão... Se eu lhe explicasse que é necessário vivermos em paz... Não me entende. Não nos entendemos. O que vai acontecer será muito diferente do que esperamos. (Graciliano Ramos)

Se, no texto acima, fossem colocadas conjunções ou locuções conjuntivas coordenativas entre os períodos, a sequência correta seria a presente em qual alternativa?

- a) e - ora - ora - conquanto
b) ou - mas - mas - não obstante
c) e - contudo - e - por conseguinte
d) ou - porquanto - nem - de sorte que

20 – Leia:

Uma mancha negra gigantesca escureceu e apavorou Nova Iorque. Era o ano de 1915 e acabara de ser erguido o primeiro arranha-céu da cidade, o Equitable Building, com quarenta e dois andares. (...) Os nova-iorquinos se enfureceram, temendo que a cidade fosse devorada pelas sombras, se os construtores de Manhattan decidissem seguir o modelo estabelecido pelo Equitable. (Superinteressante, SP: Abril, jun., 2004)

Observando o contexto, pode-se dizer que, no texto acima, existe uma oração reduzida que se classifica como

- a) subordinada substantiva objetiva direta.
b) subordinada substantiva subjetiva.
c) coordenada explicativa.
d) coordenada aditiva.

21 – Assinale a alternativa que contém locução adverbial.

- a) As vezes em que ele fez os exercícios de halteres foram proveitosas.
b) Precisou olhar de perto tudo que estava acontecendo.
c) As autoridades fizeram elogios à noite da festa.
d) À medida que ele falava, ia ficando aliviado.

22 – Assinale a alternativa em que todos os verbos são irregulares.

- a) repartir - passear - construir
b) lutar - averiguar - conferir
c) frear - conseguir - dormir
d) colocar - pedir - ouvir

23 – Assinale a alternativa que preenche correta e respectivamente as lacunas das frases abaixo.

- I- O olhar e o sorriso faceiro deixaram(-) ___ atordoado.
II- “... nunca os que a amaram e sugaram(-) ___ o leite, tiveram sossego no seu colo.” (Lima Barreto).
III- “Tanto tenho falado, tanto tenho escrito. (...) Imprudente ofício é ___, de viver em voz alta” (Rubem Braga).
IV- “E nesta maneira, Senhor, dou aqui a ___ Alteza conta do que nesta terra vi.” (Carta de Pero Vaz de Caminha a El-Rei D. Manuel).

- a) a mim - te - esse - Sua
b) no - lhe - este - Vossa
c) me - lhe - esse - Vossa
d) ele - a ela - este - Sua

24 – O texto abaixo foi reproduzido sem os acentos agudos. Quantos desses acentos devem ser colocados para torná-lo correto?

O olhar da opinião, esse olhar agudo e judicial, perde a virtude logo que pisamos o território da morte; não digo que ele não se estenda para ca, e nos não alcance e julgue; mas a nos e que não se nos da do exame nem do julgamento. Senhores vivos, não ha nada tão incomensuravel como o desdem dos finados. (Machado de Assis)

- a) 6
b) 7
c) 8
d) 9

25 – Leia:

A viagem parecia-lhe sem jeito, nem acreditava nela. Preparava-a lentamente, e só se resolvera a partir quando tudo estava definitivamente perdido. (Graciliano Ramos)

Coloque V (verdadeiro) ou F (falso) nas afirmativas que seguem sobre o uso das vírgulas no texto acima e assinale a alternativa que corresponde à sequência correta.

- () Todas as vírgulas são de coordenação.
() Há uso de vírgula antes da conjunção *e* para separar oração com sujeito diferente.
() A vírgula antes da conjunção *e* separa oração subordinada consecutiva.
() A vírgula antes da conjunção *e* marca a separação de oração coordenada adversativa.

- a) F - V - F - V
b) V - F - V - F
c) V - F - F - V
d) F - V - V - F

26 – Assinale a alternativa em que a palavra em destaque **não** corresponde a um homônimo perfeito de outra classe gramatical.

- a) “Quem pensa que cabelo é mato / Quem pensa que cabelo é **pasto**” (Jorge Ben e Arnaldo Antunes)
b) A menina exibia um olhar tão belo e, ao mesmo tempo, tão **choroso**, que comovia deveras!
c) A palavra *tique* tem **clara** origem onomatopaica, segundo alguns estudiosos.
d) Era triste ver a degradação do vilarejo e a **piora** da condição das almas do lugar.

27 – Assinale a alternativa correta a respeito do que se afirma sobre substantivo.

- a) Está correto afirmar que a História registrou uma grande cisma religiosa, porque **a cisma** significa dissidência.
b) Na expressão **Rebeldes Brasileiros**, o substantivo é **rebelde** e classifica-se como sobrecomum.
c) Quando o substantivo mantém o gênero para designar seres do sexo masculino e do feminino, é classificado de substantivo uniforme, caso de **criatura**.
d) O substantivo coletivo **junta** pode ser usado de forma ampla, indicando, por exemplo, conjunto de médicos, examinadores, pessoas em geral, atletas e artistas.

28 – Assinale a alternativa em que o termo grifado **não** é objeto direto.

- a) “Em vez das mágoas de agora,
Eu tinha nessas delícias
De minha mãe as carícias
E beijos da minha irmã.” (Álvares de Azevedo)
- b) “**Este lugar delicioso e triste,**
cansada de viver, tinha escolhido
para morrer a mísera Lindoia.” (Santa Rita Durão)
- c) “Julgando inúteis **as cautelas,** curvei-me à fatalidade.” (G. Rosa)
- d) “As flores leva-as **a brisa.**” (José de Alencar)

29 – Assinale a alternativa em que o verbo auxiliar destacado nas locuções verbais é também formador de tempo composto.

- a) “Se a gente **não tivesse** feito tanta coisa / (...) Podia ter vivido um grande amor.” (*Grand’ Hotel*, Kid Abelha)
- b) “E a minha namorada... / (...) dá a impressão que **está** entrando por uma nuvem adentro.” (V. Moraes)
- c) Os olhos infantis boiavam em lágrimas vendo os homens que **começavam** a desmontar o circo.
- d) O que **poderia** ter havido para que ela não descesse radiante e luminosa do trem?

30 – Assinale a alternativa em que o termo negrito tem a mesma classificação sintática do que está destacado na seguinte frase:

*O sistema ortográfico de qualquer língua é comandado **por convenções rígidas de caráter uniformizador** que tendem a neutralizar as diferenças de pronúncia que envolvem a fala.* (Platão e Fiorin)

- a) “Amo-te até nas coisas mais pequenas / **Por toda a vida.**” (Manuel Bandeira)
- b) “O garrafão de pinga, dali a pouco, era levado **por um velho perrengue.**” (Cornélio Pires)
- c) “...aferindo tudo **por esse padrão,** procedia em conformidade com ele.” (Alexandre Herculano)
- d) “Durante quinze anos lutou **por conservar intacta a independência da terra.**” (Alexandre Herculano)

31 – Leia:

- I- **Forte herança africana no país,** o Samba de Roda do Recôncavo Baiano foi reconhecido pela Unesco como Patrimônio Oral e Imaterial da Humanidade.
- II- O horror da cena atraía os olhos, mas eu os desviava, talvez pensando assim: **tudo desaparece, tudo é fantasia.**
- III- “A pátria que quisera ter era um mito; **um fantasma criado por ele no silêncio de seu gabinete.**” (Lima Barreto).

Há aposto em

- a) I e II.
b) II e III.
c) I apenas.
d) III apenas.

32 – Considerando a flexão dos verbos, assinale a alternativa correta.

- a) Edgar se entreteu diante daquela cena.
b) Tudo dará certo, se você manter a boca fechada.

- c) Ele só poderá fazer a prova depois que repor as aulas.
d) Assim que interpuséssemos recurso, as providências seriam tomadas.

33 – Assinale a alternativa que contém vocativo.

- a) Amariam o mar se prestassem bem atenção ao ruído da vaga, filhos de pescadores.
- b) Os colegas — o equilibrista e o lançador de fogo — sabiam emocionar seus companheiros.
- c) Aeromoça, limitada à burocracia, é como gerânio intimidado a florir dentro do armário.
- d) “Cessa o estrondo da cachoeira / (...) Já desperta o mínimo arrepio.” (Carlos D. de Andrade)

34 – Leia:

O cérebro é capaz de quase qualquer coisa. Ele consegue parar o tempo, ficar vários dias numa boa sem dormir, ler pensamentos, mover objetos a distância e se reconstruir de acordo com a necessidade. Parecem superpoderes de histórias em quadrinhos, mas são apenas algumas descobertas que os neurocientistas fizeram ao longo da última década. (Superinteressante, São Paulo: Abril, ago. 2006)

Coloque V (verdadeiro) ou F (falso) nas sentenças abaixo e, a seguir, assinale a alternativa que traz a sequência correta.

Pode-se afirmar que, no texto acima, há

- () dois períodos compostos apenas por coordenação, com o total de nove orações coordenadas, sendo sete assindéticas e duas sindéticas.
- () um período composto apenas por coordenação, com duas orações assindéticas.
- () um período composto por subordinação, com uma oração principal e seis orações subordinadas objetivas diretas, coordenadas entre si.
- () um período composto apenas por coordenação e outro por coordenação e subordinação, com uma oração subordinada adjetiva restritiva.

- a) F - V - V - F
b) V - F - F - F
c) F - F - V - F
d) V - V - F - V

35 – Apenas uma das alternativas abaixo apresenta uma forma de concordância nominal para a qual **não** há outra possibilidade de concordância. Assinale-a.

- a) Era a casa dos sonhos! Apresentava tamanho e localização perfeita!
- b) São maravilhosos a ternura e o perdão. Ambos mostram que belo pode ser o homem.
- c) O passeio tão esperado contaria apenas com alunos da segunda e terceira série do Ensino Médio.
- d) Os Sertões e Memórias Póstumas de Brás Cubas são, respectivamente, obras-primas dos gigantes Guimarães Rosa e Machado de Assis.

36 – Considere o diálogo abaixo.

— *Será que, depois de tudo que aconteceu, o Zeca vai se atrever a vir aqui.*

— *Eu acho que... Não sei... Creio que sim. Se a necessidade for maior que o escrúpulo...*

— *Tem gente de todo tipo neste mundo mesmo!*

Quanto à pontuação, quais falas estão corretas?

- a) A segunda e a terceira.
- b) A primeira e a segunda.
- c) A primeira e a terceira.
- d) Todas.

37 – Respeitando-se a ordem natural dos termos sintáticos da oração, assinale a alternativa que apresenta o termo **faltante** na frase *No teu colo é o meu abrigo*, modificada de uma canção popular.

- a) Sujeito
- b) Objeto direto
- c) Adjunto adnominal
- d) Predicativo do sujeito

38 – Quantas orações subordinadas adverbiais há no texto abaixo?

Assim que Acácio deixou sua cidade, um drama emocional o invadiu. É certo que ele precisava tomar essa atitude, se quisesse realmente uma vida diferente daquela em que estava. Os últimos acontecimentos tinham chegado a tal ponto que não lhe figurava melhor panorama, mas, conforme os dias se passavam, ele via que não seria fácil viver segregado do grande amor da sua vida. Ah, essas ciladas do coração... Quem as poderá, um dia, explicar?

- a) 4
- b) 3
- c) 6
- d) 5

39 – Leia:

Desde os cinco anos merecera eu a alcunha de ‘menino do diabo’; e verdadeiramente não era outra coisa; fui dos mais malignos do meu tempo, arguto, indiscreto, traquinas e voluntarioso. (Machado de Assis)

Em relação aos encontros vocálicos existentes no texto, é correto afirmar que

- a) oito são ditongos crescentes e três são hiatos.
- b) oito são ditongos decrescentes e dois são hiatos.
- c) sete são ditongos decrescentes, um é ditongo crescente e dois são hiatos.
- d) sete são ditongos decrescentes, dois são ditongos crescentes e dois são hiatos.

40 – Leia o texto abaixo e avalie as informações sobre ele.

Não existem crianças de rua. Existem crianças na rua. E toda vez que um menino está na rua é porque alguém o botou lá. (Marina Colasanti)

- I- Nos dois casos, os termos grifados são adjuntos adnominais.
- II- A expressão “de rua” denota qualidade, e “na rua” expressa localização.
- III- Com a troca da preposição no adjunto, o texto passou a fazer uma crítica à sociedade.

Está correto o que se afirma em

- a) I e II.
- b) I e III.
- c) II e III.
- d) I, II e III.

AS QUESTÕES DE 41 A 100 REFEREM-SE À ADMINISTRAÇÃO

41 – Com base nos princípios fundamentais da organização formal, avalie as informações abaixo.

- I- O princípio da hierarquia também recebe o nome de princípio escalar.
- II- Nível intermediário, comumente chamado de nível estratégico, é composto dos gerentes.
- III- Amplitude de comando significa o número de subordinados que um administrador pode supervisionar.
- IV- Delegação é o processo de transferir autoridade e responsabilidade para posições inferiores na hierarquia.

Está correto o que se afirma em

- a) I, II e III.
- b) I, III e IV.
- c) IV somente.
- d) II e IV somente.

42 – Devido à variabilidade humana, a Teoria da Contingência passou a focalizar o modelo de “homem complexo”. De acordo com as características desse modelo, avalie as afirmações abaixo e coloque V para verdadeiro ou F para falso e, em seguida, assinale a alternativa com a sequência correta.

- () O homem é um modelo de sistema aberto que não só recebe insumos do ambiente, como reage a estes adotando uma postura proativa.
- () O homem é um sujeito passivo, pois passou a aceitar a variabilidade humana das organizações.
- () Os sistemas individuais são estáticos, pois não se desenvolvem continuamente.
- () O homem tem um comportamento dirigido para objetivos.

- a) F - V - F - V
- b) V - F - F - V
- c) V - F - V - F
- d) F - V - V - F

43 – Analise a frase abaixo, a respeito das teorias administrativas e, a seguir, complete os espaços assinalando a alternativa com a sequência correta.

Enquanto a _____ caracteriza o _____ e a _____, o _____, a _____ focaliza o _____.

- a) Teoria Clássica - *homo economicus* - Teoria das Relações Humanas - homem social - Teoria Estruturalista - homem organizacional
- b) Teoria das Relações Humanas - homem social - Teoria Clássica - *homo economicus* - Teoria da Contingência - homem funcional
- c) Teoria Clássica - homem social - Teoria das Relações Humanas - *homo economicus* - Teoria Estruturalista - homem organizacional
- d) Teoria Matemática - homem funcional - Teoria das Relações Humanas - *homo economicus* - Teoria Comportamental - homem administrativo

44 – Complete a lacuna e em seguida assinale a alternativa com a resposta correta.

A _____ é o órgão permanente, organizado e mantido pela União e estruturado em carreira e destina-se a exercer as funções de polícia marítima, aeroportuária e de fronteiras.

- a) Polícia Rodoviária Federal
- b) Polícia Federal
- c) Polícia Militar
- d) Polícia Civil

45 – Avalie as afirmações abaixo e marque V para verdadeiro e F para falso. Em seguida, assinale a alternativa com a sequência correta.

- () Na representação gráfica, existem de um lado, os bens e direitos, que formam o grupo dos elementos positivos, e encontram-se no lado esquerdo do gráfico. Já no lado direito, existem as obrigações, que formam o grupo dos elementos negativos.
- () As reservas representam os elementos ativos ou o conjunto de elementos ativos que o proprietário investiu na empresa, que poderá ser composto somente por dinheiro, ou dinheiro e outros bens.
- () Quando os elementos componentes do patrimônio são devidamente qualificados, isto é, especificados segundo a natureza de cada um, ressaltamos o aspecto quantitativo.
- () Situação Líquida Patrimonial é a diferença entre o ativo e o passivo, e a mesma pode ser também chamada de Patrimônio Líquido.

- a) V - V - F - F
- b) F - F - V - V
- c) V - F - F - V
- d) F - V - V - F

46 – Qual dos Poderes da Administração é capaz de editar atos normativos, dar ordens, anular atos ilegais e revogar atos inoportunos, controlar órgãos inferiores, aplicar sanções e avocar e delegar atribuições não privativas?

- a) Poder de Polícia.
- b) Poder Normativo.
- c) Poder Disciplinar.
- d) Poder Hierárquico.

47 – Assinale a alternativa que corresponde ao processo pelo qual o sistema tende à exaustão, desorganização, desintegração e, por fim, à morte, tendo que, para sobreviver, abrir-se e reabastecer-se de energia e informação a fim de manter sua estrutura.

- a) Homeostasia
- b) Redundância
- c) Entropia
- d) Sinergia

48 – Avalie as informações abaixo sobre o exercício de mandato eletivo de Servidor Público da administração direta, autárquica e fundacional.

- I- Investido no mandato de Vereador, não havendo compatibilidade de horário, será afastado do cargo, emprego ou função, sendo-lhe facultado optar pela sua remuneração.
- II- Tratando-se de mandato eletivo federal, estadual ou distrital, ficará afastado de seu cargo, emprego ou função, sendo-lhe facultado optar pela sua remuneração.
- III- Em qualquer caso que exija afastamento para o exercício de mandato eletivo, a contagem do tempo de serviço será interrompida para todos os efeitos legais.
- IV- Investido no mandato de Prefeito, será afastado do cargo, emprego ou função, sendo-lhe facultado optar pela sua remuneração.

Está correto o que se afirma em

- a) I, II e IV.
- b) I, III e IV.
- c) I e IV somente.
- d) II e III somente.

49 – Relacione as colunas quanto aos remédios constitucionais. Em seguida, assinale a alternativa com a sequência correta.

1 – Mandado de Injunção

2 – *habeas corpus*

3 – Ação Popular

4 – *habeas data*

() Utilizado sempre quando alguém sofrer ou se achar ameaçado de sofrer violência ou coação em sua liberdade de locomoção, por ilegalidade ou abuso de poder.

() Utilizado para assegurar o conhecimento de informações relativas à pessoa do impetrante, constante de registros ou bancos de dados de entidades governamentais ou de caráter público.

() Utilizado para visar anular ato lesivo ao patrimônio público ou de entidade de que o Estado participe, à moralidade administrativa, ao meio ambiente e ao patrimônio histórico e cultural.

() Utilizado sempre que a falta de norma regulamentadora torne inviável o exercício dos direitos e liberdades constitucionais e das prerrogativas inerentes à nacionalidade, à soberania e à cidadania.

- a) 2 - 4 - 3 - 1
- b) 2 - 4 - 1 - 3
- c) 3 - 1 - 4 - 2
- d) 1 - 2 - 3 - 4

50 – Qual a funcionalidade exercida pela ferramenta representada pela figura abaixo?

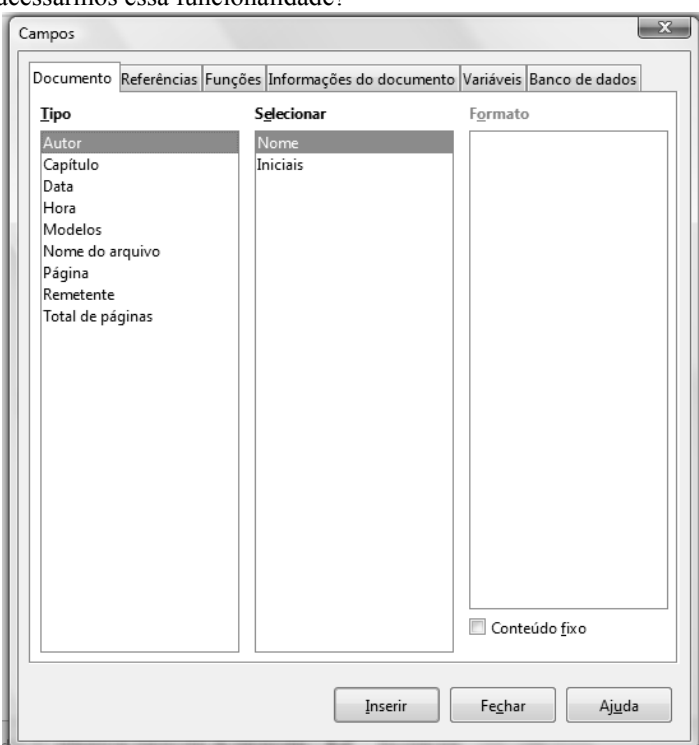


- a) Inserir uma figura no primeiro slide.
- b) Inserir um modelo de apresentação de slides pré-definido por um site acessado na Internet.
- c) Inserir um modelo de apresentação de slides pré-definido pelo LibreOffice Impress.
- d) Inserir um modelo de apresentação de slides pré-definido pelo último usuário do Libre Office Impress.

51 – A República Federativa do Brasil rege-se nas suas relações internacionais por alguns princípios. Assinale a alternativa que **não** contempla um desses princípios.

- a) Garantir o desenvolvimeto nacional.
- b) Repúdio ao terrorismo e ao racismo.
- c) Independência nacional.
- d) Defesa da paz.

52 – Podemos colocar vários campos em um texto do LibreOffice Writer, conforme a figura abaixo. Qual o caminho correto para acessarmos essa funcionalidade?



- a) Inserir, campos.
- b) Ferramentas, campos.
- c) Inserir, opções, campos do texto.
- d) Ferramentas, opções, campos do texto.

53 – Avalie as afirmações abaixo sobre os casos em que pode ser concedido o suprimento de fundos.

- I- Quando a despesa deva ser feita em caráter sigiloso, conforme se classificar em regulamento.
- II- Para atender despesas de pequeno vulto, assim entendidas aquelas cujo valor, em cada caso, não ultrapassar limite estabelecido em portaria do ministro da fazenda.
- III- A servidor que tenha a seu cargo a guarda ou a utilização do material a adquirir, salvo quando não houver na repartição outro servidor.
- IV- Para atender despesas eventuais, inclusive em viagens e com serviços especiais que exijam pronto pagamento em espécie.

Está correto o que se afirma em

- a) I, II e III.
- b) II, III e IV.
- c) I, II e IV.
- d) II e III somente.

54 – Assinale a alternativa que indica um caso de perda ou suspensão de direitos políticos.

- a) Durante processo de cancelamento da naturalização.
- b) Condenação civil transitada em julgado.
- c) Improbidade administrativa.
- d) Incapacidade civil relativa.

55 – Relacione as colunas, considerando os conceitos das técnicas referentes à Qualidade Total e, em seguida, assinale a alternativa com a sequência correta.

- | | |
|-------------------|--|
| 1 – Enxugamento | () Técnica que proporciona aos funcionários habilidade e autoridade para a tomada de decisões. |
| 2 – Terceirização | () Promove a redução dos níveis hierárquicos a fim de reduzir as operações das empresas a sua essência. |
| 3 – Empoderamento | () Ocorre quando uma determinada operação da empresa é transferida para outra organização que consiga fazê-la melhor e mais barato. |

- a) 2 - 1 - 3
- b) 1 - 3 - 2
- c) 3 - 1 - 2
- d) 3 - 2 - 1

56 – Assinale a alternativa que contém apenas contas de despesas.

- a) Aluguéis ativos - juros passivos - salários
- b) Prêmio de seguro - despesas bancárias - juros passivos
- c) Energia elétrica - fretes e carretos - vendas de mercadorias
- d) Contribuições de previdência - café e lanches - descontos obtidos

57 – Assinale a alternativa que corresponde a uma técnica muito utilizada, que significa o aprimoramento contínuo e gradual de todos os membros da organização de maneira que realizem suas tarefas um pouco melhor a cada dia.

- a) *Kaizen*
- b) Resiliência
- c) *Empowerment*
- d) *Benchmarking*

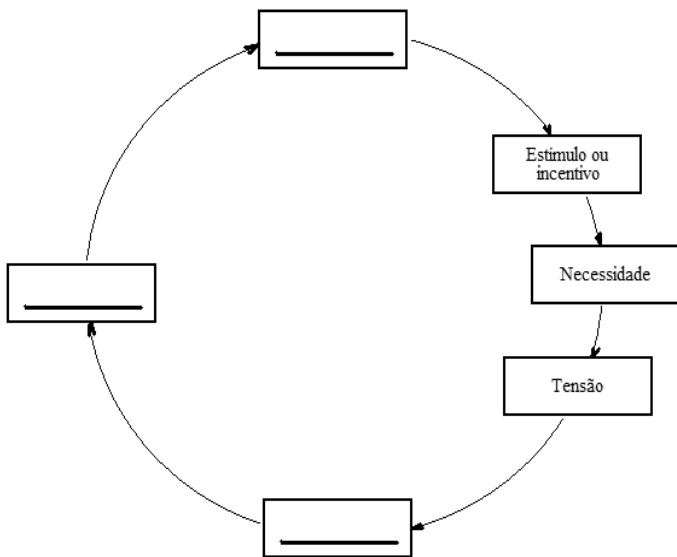
58 – Assinale a alternativa que aponta, de acordo com os autores neoclássicos, dois dos princípios gerais da Administração aplicados à função de organizar.

- a) Princípio das relações recíprocas e Princípio Escalar
- b) Princípio da Definição Funcional e Princípio da Exceção
- c) Princípio das Funções de Staff e de Linha e Princípio Escalar
- d) Princípio da Especialização e Princípio das relações recíprocas

59 – O Conselho de Defesa Nacional é o órgão de consulta do Presidente da República nos assuntos relacionados com a soberania nacional e a defesa do Estado democrático. Assinale a alternativa que indica uma ação que **não** é de competência desse órgão.

- a) Opinar nas hipóteses de declaração de guerra e de celebração da paz.
- b) Pronunciar-se sobre questões relevantes para a estabilidade das instituições democráticas.
- c) Propor os critérios e condições de utilização de áreas indispensáveis à segurança do território nacional e opinar sobre seu efetivo uso.
- d) Estudar, propor e acompanhar o desenvolvimento de iniciativas necessárias a garantir a independência nacional e a defesa do Estado democrático.

60 – A partir da Teoria das Relações Humanas, passou a ser aplicado dentro das organizações uma grande quantidade de teorias psicológicas que dizem respeito à motivação humana. Complete as etapas do Ciclo Motivacional, resultando em satisfação da necessidade, e assinale a alternativa com a resposta correta.



- a) Barreira - Equilíbrio - Satisfação
- b) Comportamento - Satisfação - Colaboração
- c) Equilíbrio - Comportamento ou ação - Satisfação
- d) Comportamento ou ação - Satisfação - Resistência

61 – De acordo com a planilha abaixo, qual a correta sintaxe da função SE para verificarmos quais motoristas fizeram hora extra, sabendo-se que, mensalmente, a carga horária é de 96 horas.

COLUNA A	COLUNA B	COLUNA C
Motorista	Horas	Hora Extra (Sim/Não)
José	96	
Antônio	110	
Maria	96	
Mariana	102	
Josefa	100	

- a) SE (COLUNA B=96;"Sim";"Não")
- b) SE (COLUNA B>96;"Sim";"Não")
- c) SE (COLUNA B<=96;"Sim";"Não")
- d) SE (COLUNA B > 96;"Não";"Sim")

62 – Indique o recurso utilizado pelo servidor público para reexame da decisão que o puniu, cabível em caso de fatos novos capazes de demonstrar sua inocência.

- a) Recurso Hierárquico Impróprio
- b) Pedido de Reconsideração
- c) Recurso Hierárquico
- d) Revisão

63 – Dentro da abordagem Microscópica e Mecanicista da Administração Científica, partindo dos estudos dos tempos e movimentos, avalie quais itens proporcionam um melhor padrão de produção.

- I- Lei da fadiga.
- II- Plano de incentivo salarial.
- III- Seleção científica do trabalhador.
- IV- Determinação do método de trabalho.

Está correto o que se afirma em

- a) I, II e III
- b) I, III e IV
- c) IV somente
- d) II e IV somente

64 – Em uma empresa, são previstas 40 horas semanais de trabalho, porém, muitos funcionários possuem uma jornada de trabalho maior, sendo necessário o pagamento da hora extra, sob o valor de R\$5,00. Sendo assim, qual a fórmula correta para o cálculo das horas extras trabalhadas, admitindo a variável HR como o total de Horas Extras?

- a) (HR/40)*5
- b) (HR-40)*5
- c) (HR+40)*5
- d) (HR*40)*5

65 – Qual das alternativas abaixo **não** representa uma receita de capital?

- a) Da conversão, em espécie, de bens e direitos.
- b) De amortização de empréstimos anteriormente concedidos e outras.
- c) Provenientes da realização de recursos financeiros oriundos de constituição de dívidas.
- d) Provenientes de recursos financeiros recebidos de outras pessoas de direito público ou privado, quando destinados a atender as despesas classificáveis em despesas correntes.

66 – Com relação à Administração por Objetivos, é correto afirmar que se trata de um processo

- a) linear e unilateral.
- b) cíclico e analítico.
- c) cíclico e recorrente.
- d) linear e bidirecional.

67 – Quanto aos princípios basilares da Administração Pública, assinale a alternativa **incorreta**.

- a) Legalidade
- b) Publicidade
- c) Pessoalidade
- d) Supremacia do Interesse Público

68 – A Teoria Matemática desloca a ênfase na ação para a ênfase na decisão que a antecede, existindo dois extremos no processo decisório, as decisões programadas e as não programadas. Com base nessas informações, assinale a alternativa que **não** corresponde a uma característica da decisão programada.

- a) Certeza
- b) Inovação
- c) Dados adequados
- d) Dados repetitivos

69 – A empresa THELIC possui quatro eventos planejados, quais sejam: A, B, C e D, respectivamente. Sabe-se que os eventos não estão intimamente inter-relacionados e não possuem interdependência. Para melhor acompanhar o andamento desses eventos, qual gráfico é indicado para planejamento e controle, de modo que as colunas reservadas à variável tempo sejam divididas em quatro partes?

- a) PERT
- b) Cronograma
- c) Gráfico de Gannt
- d) Gráfico de Análise de Processo

70 – Assinale a alternativa que indica a modalidade de contrato Administrativo que possibilita a Administração delegar a execução de um serviço público a um particular, para que execute sob sua própria responsabilidade, mediante remuneração decorrente de tarifa paga pelo usuário ou remuneração decorrente da exploração do serviço.

- a) Convênio
- b) Parcerias público-privadas
- c) Concessão de obras públicas
- d) Concessão de serviço público

71 – Relacione as colunas, considerando algumas das principais conclusões obtidas através da Experiência de Hawthorne, e assinale a alternativa com a sequência correta.

- 1 – As pessoas são motivadas pela necessidade de “reconhecimento”, de “aprovação social” e “participação” nas atividades dos grupos sociais onde convivem. () Relações Humanas
- 2 – Elementos emocionais, não planejados e mesmo irracionais do comportamento humano merecem atenção especial da Teoria das Relações Humanas. () Recompensa e Sanções Sociais
- 3 – Cada pessoa possui uma personalidade própria e diferenciada que influi no comportamento e atitudes das outras com quem mantém contatos e é igualmente influenciada. () Ênfase nos Aspectos Emocionais
- 4 – A capacidade social do trabalhador que determina o seu nível de competência e eficiência e não sua capacidade de executar movimentos eficientes dentro do tempo estabelecido. () Nível de Produção é Resultante da Integração Social.

- a) 3 - 1 - 2 - 4
- b) 2 - 4 - 1 - 3
- c) 4 - 2 - 3 - 1
- d) 1 - 3 - 4 - 2

72 – Avalie as informações abaixo com relação às classificações das contas.

- I- Por meio das contas patrimoniais, é que sabemos se a empresa apresentou lucro ou prejuízo em suas atividades.
- II- As contas patrimoniais representam o patrimônio líquido da empresa num dado momento, mediante o Balanço Patrimonial.
- III- As contas: contribuição de previdência e prêmios de seguro, são classificadas como despesas, logo são consideradas contas patrimoniais.
- IV- Todos acontecimentos que ocorrem na empresa, responsáveis pela gestão do seu patrimônio, são registrados em livros próprios por meio das contas.

Está correto o que se afirma em

- a) III e IV.
- b) I, II e III.
- c) I somente.
- d) II e IV somente.

73 – Assinale a alternativa que aponta uma vantagem da descentralização.

- a) Não é necessária a assessoria da matriz.
- b) Exige treinamento para a delegação progressiva de funções.
- c) Tomadores de decisão têm mais informação sobre a situação.
- d) Políticas e procedimentos podem variar nos diversos departamentos.

74 – Assinale a alternativa que indica uma espécie de pena prevista em lei e adotada no Brasil.

- a) Banimento
- b) Caráter perpétuo
- c) Trabalhos forçados
- d) Suspensão ou interdição de direitos

75 – Com o advento da Era da Informação, ocorreu uma transformação nos aspectos econômicos. Com base nessa afirmação, relacione as colunas a respeito das diferenças entre os aspectos da velha e da nova economia e assinale, em seguida, a alternativa com a sequência correta.

- 1 – Aspectos da nova economia () O progresso tecnológico é caracterizado pela digitalização.
- 2 – Aspectos da velha economia () Os mercados se mantêm estáveis e as empresas atuam nacionalmente.
- () O progresso tecnológico é caracterizado pela mecanização e automação.
- () Os mercados mudam dinamicamente e as empresas atuam globalmente necessitando organizar-se como redes integradas.

- a) 2 - 1 - 1 - 2
b) 1 - 2 - 2 - 1
c) 1 - 1 - 2 - 2
d) 2 - 2 - 1 - 1

76 – Relacione as colunas, considerando os princípios do orçamento público. Em seguida, assinale a alternativa com a sequência correta.

- 1 – Orçamento bruto () De acordo com esse princípio, cada pessoa jurídica de direito público, cada esfera da Administração deveria dispor de um orçamento que contivesse suas receitas e despesas.
- 2 – Discriminação /Especialização
- 3 – Anualidade /Periodicidade
- 4 – Unidade
- 5 – Equilíbrio
- () Conforme esse princípio, o orçamento deve ser elaborado e autorizado para execução em um período determinado de tempo.
- () Segundo esse princípio, é preconizada a identificação de cada rubrica de receita e despesa, de modo que não figurem de forma englobada.
- () Esse princípio pugna pela utilização das rubricas de receitas e despesas pelos seus valores brutos, isto é, sem deduções, sem compensações.
- () Princípio que pressupõe a não absorção, pelo governo, da coletividade mais do que o necessário para o financiamento das atividades a seu cargo; condiciona-se a realização dos dispêndios à capacidade efetiva de obtenção dos ingressos capazes de financiá-los.

- a) 3 - 4 - 5 - 1 - 2
b) 5 - 1 - 4 - 2 - 3
c) 4 - 3 - 2 - 1 - 5
d) 4 - 2 - 3 - 5 - 1

77 – Avalie as informações abaixo sobre Razonete e Balancete.

- I- Balancete é uma relação de contas extraídas do livro diário.
- II- A soma da coluna do Saldo Devedor tem de ser igual à coluna do Saldo Credor.
- III- Deve-se utilizar tantos razonetes quantas forem as contas utilizadas na escrituração do diário.
- IV- Para evitar enganos, os registros nos razonetes devem obedecer rigorosamente à ordem em que as contas se encontram escrituradas no livro diário.
- Está correto o que se afirma em

- a) I, II e III.
b) I somente.
c) II, III e IV.
d) II e III somente.

78 – Dentro da hierarquia das necessidades de Maslow, é correto afirmar que

- a) as necessidades sociais estão relacionadas com a maneira pela qual o indivíduo se vê e se avalia.
- b) as necessidades de autorrealização constituem o nível mais inferior das necessidades humanas.
- c) a necessidade de associação e participação estão entre as necessidades sociais.
- d) necessidades de segurança são as mais elevadas e estão no topo da hierarquia.

79 – Na Licitação, assinale a alternativa correspondente ao princípio que garante à Administração escolher a melhor proposta e, ao mesmo tempo, assegura a igualdade de direitos a todos os interessados em contratar.

- a) Igualdade
b) Legalidade
c) Ampla Defesa
d) Impessoalidade

80 – Marque a alternativa que corresponde à correta sequência para a colocação do plano de fundo da foto abaixo em todos os slides da apresentação.

The image shows a software interface with two main sections: "Padronagem" (Patterns) and "Opções" (Options). Under "Padronagem", there is a 4x3 grid of pattern swatches. The top-left swatch is selected, indicated by a dashed border. Under "Opções", there is a "Editor de padronagem:" which is a 5x5 grid where some cells are filled with black. Below this, there are two dropdown menus: "Cor do plano da frente:" (Front plane color) set to "Preto" (Black), and "Cor do plano de fundo:" (Back plane color) set to "Branco" (White). At the bottom, there are two buttons: "Adicionar" (Add) and "Modificar" (Modify).

- a) Slide, propriedades do slide, abrir, padronagem, clicar na segunda opção de padronagens, clicar em adicionar.
- b) Slide, propriedades do slide, página, padronagem, clicar na segunda opção de padronagens, clicar em adicionar.
- c) Slide, propriedades do slide, transparência, padronagem, clicar na segunda opção de padronagens, clicar em adicionar.
- d) Slide, propriedades do slide, plano de fundo, padronagem, clicar na segunda opção de padronagens, clicar em adicionar.

81 – Indique a alternativa que corresponde a um dos atos Administrativos em espécie, que se define como um ato unilateral e vinculado de que a Administração se utiliza para reconhecer a legalidade de um ato jurídico, sempre *a posteriori*.

- a) Parecer
- b) Permissão
- c) Aprovação
- d) Homologação

82 – Com relação ao estágio de empenho da despesa, avalie as informações abaixo.

- I- O empenho pode ser efetuado sob três modalidades.
- II- A primeira fase do estágio da despesa é o empenho, ou seja, é a verificação do implemento de condição.
- III- Empenho global é quando o montante a ser pago é previamente conhecido, e deva ocorrer de uma só vez.
- IV- Empenho ordinário é quando o montante a ser pago é previamente conhecido, mas deve ocorrer parceladamente, comum nos casos de contrato.
- Está correto o que se afirma em

- a) II e III.
- b) I, II e III.
- c) II, III e IV.
- d) I somente.

83 – Segundo o art. 41 da lei nº 4.320/64, há três tipos de créditos adicionais. Assinale a alternativa que representa o tipo de crédito adicional abaixo.

“São destinados a reforço de dotação orçamentária (caso típico dos acréscimos de despesas com pessoal, por subestimativa da previsão, por aumento dos vencimentos).”

- a) especiais
- b) suplementares
- c) extraordinários
- d) seguridade social

84 – Assinale a alternativa que preenche correta e respectivamente as lacunas.

A rescisão _____ do contrato Administrativo, quando há conveniência para a Administração, é realizada em acordo entre as partes. Já a rescisão _____ é requerida quase sempre pelo contratado, nos casos em que a Administração concorra para algum inadimplemento. Por fim, a rescisão _____ é utilizada pela Administração nos casos de motivo de interesse público, previstos na legislação.

- a) unilateral - amigável - judicial
- b) amigável - judicial - unilateral
- c) amigável - unilateral - judicial
- d) unilateral - judicial - amigável

85 – Ambos são gráficos, porém com intuitos diferentes. Relacione as colunas considerando as aplicações e os aspectos desses gráficos e assinale a alternativa correta.

- 1 – Fluxograma () Define a estrutura hierárquica contendo os diversos níveis da organização.
- 2 – Organograma () Nesse gráfico, os retângulos são símbolos que significam “Processamento ou Operação”.
- () Descreve analiticamente as tarefas ou operações executadas, seja por órgãos seja por ocupantes de cargos.
- () Nesse gráfico, os retângulos representam os órgãos da organização e as linhas representam os canais de comunicação.

- a) 2 - 1 - 2 - 1
- b) 2 - 1 - 1 - 2
- c) 1 - 2 - 2 - 1
- d) 1 - 2 - 1 - 2

86 – No final da Era Industrial Neoclássica, surgiram várias técnicas de intervenção e abordagens inovadoras, como a Melhoria Contínua e a Reengenharia.

De acordo com as diferenças apontadas entre essas técnicas, correlacione as colunas e, a seguir, assinale a alternativa com a sequência correta.

- 1 – Melhoria Contínua () Vem de cima para baixo.
- 2 – Reengenharia () Ocorre de baixo para cima.
- () Representa o aperfeiçoamento gradativo e lento do processo atual.
- () Pretende criar um processo inteiramente novo e baseado na Tecnologia da Informação.

- a) 1 - 1 - 2 - 1
- b) 2 - 2 - 1 - 2
- c) 1 - 2 - 2 - 1
- d) 2 - 1 - 1 - 2

87 – Avalie as informações abaixo sobre os militares das Forças Armadas.

- I- Ao militar são proibidas a sindicalização e a greve.
- II- O militar, da ativa e da reserva, não pode estar filiado a partido político.
- III- O militar em atividade que tomar posse em cargo ou emprego público civil permanente, ressalvada a hipótese dos profissionais de saúde, será transferido para a reserva.
- IV- As patentes, com prerrogativas, direitos e deveres a elas inerentes, são conferidas pelo Congresso Nacional e asseguradas em plenitude aos oficiais da ativa, da reserva ou reformados.

Está correto o que se afirma em

- a) I, II e III.
- b) I, III e IV.
- c) II e IV somente.
- d) I e III somente.

88 – A liderança é essencial em todas as funções da Administração e pode ser visualizada sob diversos ângulos. Quanto à conceituação de liderança, é correto afirmar que

- a) é diretamente relacionada aos traços pessoais de personalidade do líder.
- b) é função dos objetivos pessoais, da situação e dos valores impostos pelo líder.
- c) é uma função das necessidades existentes numa determinada situação em que o líder não se relaciona com os subordinados.
- d) é a influência interpessoal exercida numa situação e dirigida por meio do processo de comunicação humana para a conquista de objetivos específicos.

89 – Relacione as colunas quanto aos bens e às taxas usuais de depreciação a que estão sujeitos. Em seguida, assinale a alternativa com a sequência correta.

- 1 – 10% a.a () Veículos
- 2 – 20% a.a () Instalações
- () Computadores
- () Movéis e Utensílios

- a) 1 - 2 - 1 - 2
- b) 2 - 1 - 2 - 1
- c) 1 - 1 - 2 - 2
- d) 2 - 2 - 2 - 1

90 – Indique a alternativa que apresenta uma das sanções aplicáveis nos casos de Improbidade Administrativa, na esfera administrativa.

- a) Reclusão
- b) Detenção
- c) Suspensão dos direitos políticos
- d) Prestação de serviço à comunidade

91 – Em relação aos Servidores Públicos, marque V para verdadeiro e F para falso. Em seguida, assinale a alternativa com a sequência correta.

- () Como condição para a aquisição de estabilidade de servidores nomeados para cargo de provimento efetivo em virtude de concurso público, é obrigatória a avaliação especial de desempenho por comissão instituída para essa finalidade.
- () Os Poderes Executivo, Legislativo e Judiciário publicarão semestralmente os valores do subsídio e da remuneração dos cargos e empregos públicos.
- () É vedado por lei estabelecer requisitos diferenciados de admissão, mesmo quando a natureza do cargo exigir.
- () O servidor público estável perderá o cargo em virtude de setença judicial transitada em julgado.

- a) V - F - F - V
- b) V - V - F - F
- c) F - V - V - F
- d) F - F - V - V

92 – Sobre os atos Administrativos em espécie, quanto ao conteúdo, assinale V para verdadeiro e F para falso e, em seguida, assinale a alternativa com a sequência correta.

- () Admissão é um ato bilateral e vinculado em que a Administração concede o direito à prestação de um serviço público ao particular, desde que preenchidos os requisitos legais.
- () Parecer é um ato praticado pelos órgãos consultivos da Administração em que emitem opiniões sobre assuntos técnicos ou jurídicos, conforme sua competência.
- () Licença é um ato Administrativo unilateral e vinculado em que a Administração faculta o exercício de uma atividade, desde que preenchidos os requisitos legais.
- () Aprovação é um ato discricionário e bilateral pelo qual se exerce o controle *a priori* ou *a posteriori* de um ato administrativo.

- a) V - V - F - F
- b) F - V - V - F
- c) V - F - F - V
- d) F - V - F - V

93 – As organizações devem adotar culturas adaptativas e flexíveis para obter maior eficiência e eficácia de seus membros participantes e alcançar a inovação necessária para navegar pelas mudanças e transformações do mundo atual. Assinale a alternativa que **não** é considerada um aspecto da cultura adaptativa.

- a) Consistência
- b) Envolvimento
- c) Estrutura rígida
- d) Objetivos claros

94 – Relacione as colunas, considerando as definições para os processos de contas. Em seguida, assinale a alternativa com a sequência correta.

- 1 – Consolidado () Processo de contas ordinárias, organizado e apresentado em meio eletrônico, a partir de sistema que coleta dados postados pelas unidades jurisdicionadas e pelos órgãos de controle interno.
- 2 – Agregado
- 3 – Informatizado

- () Processo de contas ordinárias, organizado com a finalidade de possibilitar o exame conjunto da gestão de unidades administrativas não integrantes da estrutura da unidade jurisdicionada.

- () Processo de contas ordinárias, organizado com a finalidade de possibilitar a avaliação sistêmica da gestão de unidades jurisdicionadas subordinadas a uma unidade central, responsável pela coordenação, supervisão e definição dos objetivos, metas e formas de atuação.

- a) 3 - 1 - 2
- b) 3 - 2 - 1
- c) 1 - 2 - 3
- d) 1 - 3 - 2

95 – Rensis Likert propôs uma classificação da Administração em sistemas, definindo quatro perfis organizacionais. De acordo com essa definição, complete os espaços da frase abaixo e, em seguida, assinale a alternativa com a sequência correta.

O sistema _____ corresponde a um sistema que pende mais para o lado _____ do que para o lado _____ . Representa um gradativo abrandamento da arbitrariedade organizacional.

- a) participativo - autoritário - consultivo
- b) consultivo - participativo - autocrático
- c) autoritário coercitivo - benevolente - impositivo
- d) autoritário benevolente - participativo - consultivo

96 – A Teoria Clássica da Administração teve como fundador Henri Fayol (1841-1925) e, diferentemente da Administração Científica, caracterizava-se pela ênfase na estrutura que a organização deve possuir para ser eficiente. Em relação à Teoria Clássica, marque V para verdadeiro e F para falso. Em seguida, assinale a alternativa com a sequência correta.

- () Taylor define o ato de administrar como: prever, organizar, comandar, coordenar e controlar.
- () São adotados três princípios básicos: de intensificação, economicidade e produtividade.
- () Para Fayol existe uma proporcionalidade da função administrativa, visto que se reparte por todos os níveis hierárquicos e não existe apenas na alta cúpula.
- () Preocupa-se com a divisão no nível dos órgãos que compõem a organização. Nesse caso, a divisão do trabalho pode dar-se em duas direções: verticalmente e horizontalmente.

- a) V - V - F - F
- b) F - V - V - F
- c) V - F - F - V
- d) F - F - V - V

97 – Na Administração Científica, quanto aos interesses dos empregados e empregadores, é correto afirmar que

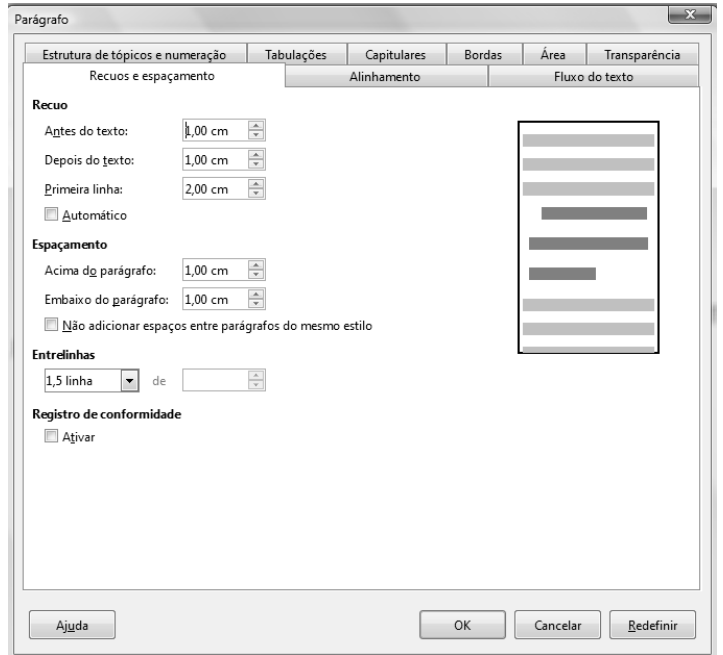
- a) os interesses de ambos se convergem.
- b) os interesses de ambos são antagônicos.
- c) os interesses de ambos são altos salários e altos custos de produção.
- d) a prosperidade do empregador independe da prosperidade do empregado.

98 – Relacione as colunas, considerando suas definições. Em seguida, assinale a alternativa com a sequência correta.

- 1 – Bens () Quando uma empresa compra mercadorias a prazo, ela não paga o valor das mercadorias no momento da compra, mas alguns dias depois, semanas ou até mesmo meses.
- 2 – Direitos () Quando uma empresa vende mercadorias a prazo, ela não recebe dinheiro no momento da venda, mas alguns dias depois, semanas ou até mesmo meses.
- 3 – Obrigações () Todos os objetos que uma empresa possui, seja para uso, troca ou consumo.

- a) 1 - 3 - 2
- b) 2 - 1 - 3
- c) 2 - 3 - 1
- d) 3 - 2 - 1

99 – Quais serão as características do texto digitado no LibreOffice Writer com as configurações da figura abaixo?



- a) As linhas digitadas terão espaçamento de 1,5 cm entre elas e, para cada parágrafo, haverá um espaçamento de 2 cm na primeira linha.
- b) As linhas digitadas terão espaçamento de 1,5 cm entre elas e, para cada parágrafo, haverá um espaçamento de 1 cm na primeira linha.
- c) As linhas digitadas terão espaçamento de 1,5 cm entre elas e, para cada parágrafo, haverá um espaçamento de 1 cm no parágrafo todo.
- d) As linhas digitadas terão espaçamento de 2 cm entre elas e, para cada parágrafo, haverá um espaçamento de 1,5 cm no parágrafo todo.

100 – A caixa abaixo representa qual ferramenta do LibreOffice Impress?



- a) Apresentação de Slides.
- b) Transição de Slides.
- c) Inserção de Slides.
- d) Janela de Slides

